

Navn: _____

Dato: _____

Lærer: _____

Elevmateriale

Matematisk opmærksomhed

6

Hvilket tal er størst (sæt ring om det største tal)

3	5
---	---

9	6
---	---

3	8
---	---

17	8
----	---

7



Skriv de tal der mangler

3		5	6		8			11	
----------	--	----------	----------	--	----------	--	--	-----------	--

13			16		18		20		
-----------	--	--	-----------	--	-----------	--	-----------	--	--

8

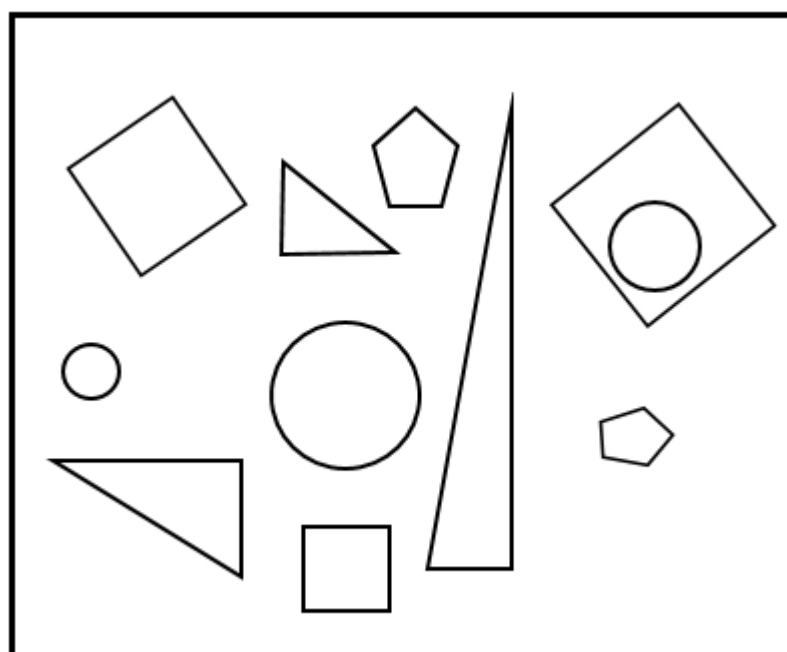
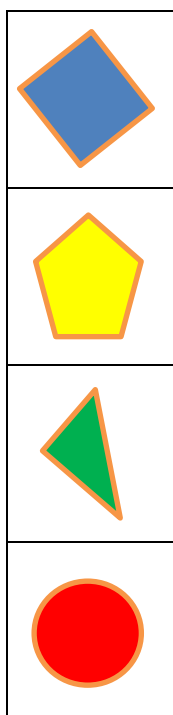
Hvor mange fingre er der:



Hvor mange øjne er der:





Farv figurene



10

Fortsæt mønstret



11

Marie og Jens samler æbler



Opgave 11 fortsat
Anne spiser pærer



12

Før-faglige ord - sammenligninger og retninger

